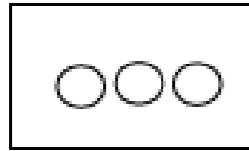


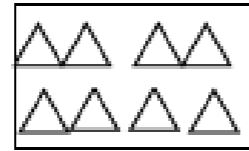
一年级(上)单元分级测试卷(一)

AAA级

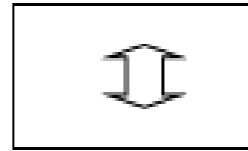
一、数一数,在括号里填数。



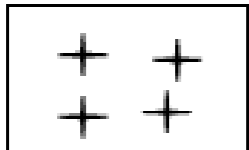
( )



( )



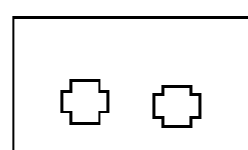
( )



( )



( )



( )

二、填数。

在右边的横线上面填1,下面

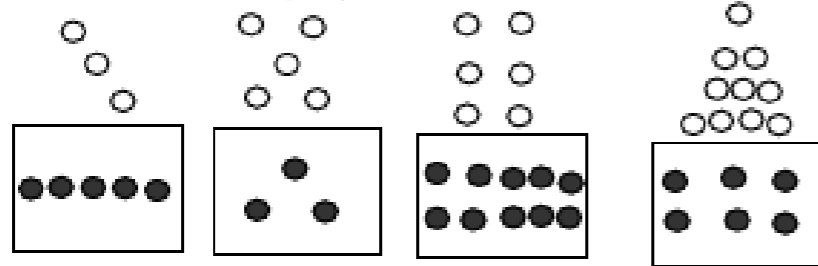
( )

填10,左边填5,右边填6。

( ) **—————** ( )

( )

三、把同样多的用线连起来。

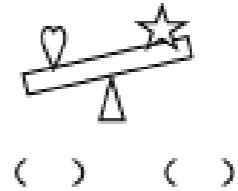


四、比一比。

1. 在重的一方下面的( )里打“√”。



( ) ( )



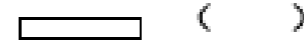
( ) ( )

2. 上面的东西,谁最重?把它圈起来。

3. 哪一根长一些?在右边的( )里打“√”。






( )



( )


五、每个框里还要画几个0?画一画。



小学数学一年（上）单元分级测试卷（二）

A 级

一、看图写数。



二、填空。

- |   |   |   |  |  |
|---|---|---|--|--|
| 4 | 6 | 8 |  |  |
|---|---|---|--|--|

	4	6		
--	---	---	--	--
- 比 1 小的数是 ( )；( ) 比 9 大 1。
- |   |   |   |   |   |   |   |   |
|---|---|---|---|---|---|---|---|
| ○ | ○ | ○ | ○ | ○ | ○ | ○ | ○ |
|---|---|---|---|---|---|---|---|

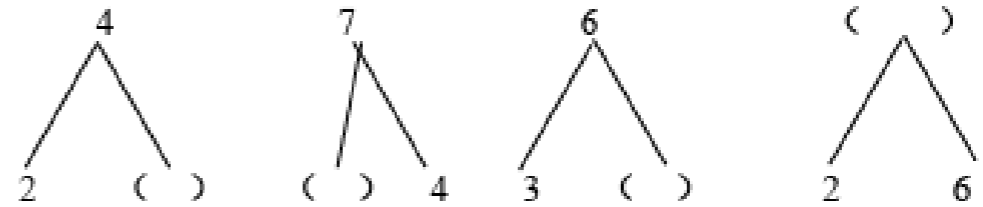
 △ 比 ○ 少 ( )  
 ○ 比 △ 多 ( )
- |   |   |   |
|---|---|---|
| △ | △ | △ |
|---|---|---|
- 2 比 5 少 ( )    10 比 8 多 ( )    ( ) 比 6 少 1
- 在 7、2、0、5、8、4、9、1 这些数中，一共有 ( ) 个数，

其中最大的数是 ( )，最小的数是 ( )。

6. 8 和 10 中间的数是 ( )；5 和 7 中间的数是 ( )。

7. 在 4、7、2、6、3、10、8、5、9 中，从左往右数，10 是第 ( ) 个数，从右往左数，10 是第 ( ) 个数。

三、根据数的组成在 ( ) 里填数。



四、在 ○ 里填上 “>”、“<” 或 “=”。

- |         |          |         |         |
|---------|----------|---------|---------|
| 2 ○ 4   | 3 ○ 3    | 10 ○ 6  | 5 ○ 3   |
| 6 ○ 5   | 9 ○ 7    | 8 ○ 8   | 6 ○ 9   |
| 3+1 ○ 4 | 7-6 ○ 2  | 4+2 ○ 5 | 8-2 ○ 8 |
| 6-2 ○ 5 | 9+1 ○ 10 | 7-0 ○ 7 | 2-2 ○ 4 |

五、口算。

- |      |      |      |      |
|------|------|------|------|
| 6+1= | 4-3= | 8+2= | 3+2= |
| 8-3= | 9-9= | 7-0= | 1+5= |
| 9+0= | 5-2= | 6+3= | 4+3= |

小学数一年级上单元分级测试卷(二)

AAA级

一、在( )里填上合适的数。

$4 + ( ) = 5$        $5 + ( ) = 7$        $( ) + 1 = 8$

$3 + ( ) = 6$        $10 - ( ) = 8$        $( ) - 2 = 3$

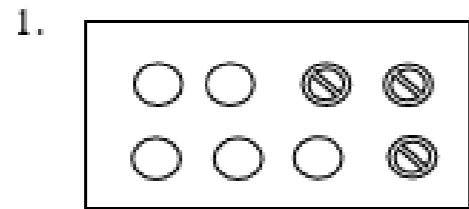
$2 + ( ) = 7$        $6 + ( ) = 9$        $( ) - 7 = 1$

二、计数。

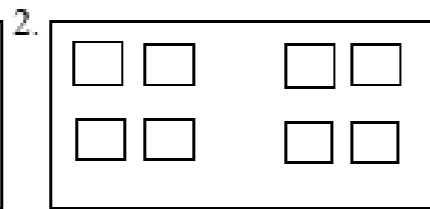
$6 - 2 - 1 =$        $3 + 2 + 2 =$        $7 - 3 - 2 =$

$7 - 3 + 2 =$        $4 + 0 + 6 =$        $2 + 5 - 4 =$

三、看图列算式。



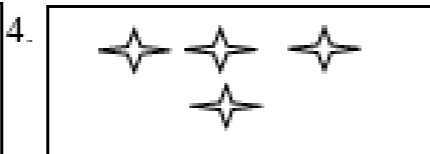
$\square \bigcirc \square = \square$



$\square \bigcirc \square = \square$

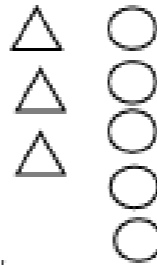


$\square \bigcirc \square \bigcirc \square = \square$




$\square \bigcirc \square = \square$

四、看图填空。



3比5少\_\_\_\_\_

\_\_\_\_\_比\_\_\_\_\_多\_\_\_\_\_



\_\_\_\_\_比\_\_\_\_\_多\_\_\_\_\_

\_\_\_\_\_比\_\_\_\_\_多\_\_\_\_\_

五、在○里填上“>”、“<”或“=”。

$3 \bigcirc 7$        $9 \bigcirc 2 + 5$        $3 + 4 \bigcirc 7$        $4 + 5 \bigcirc 2 + 7$

$5 \bigcirc 8$        $3 \bigcirc 6 - 3$        $5 + 3 \bigcirc 8$        $10 - 10 \bigcirc 6 - 6$

$10 \bigcirc 9$        $7 \bigcirc 10 - 5$        $8 + 1 \bigcirc 8$        $6 - 3 \bigcirc 8 - 3$

六、把算式和相应的得数用线连起来。

$4 + 3$	$10$	$8 + 2$	$9$
$6 - 4$	$8$	$6 - 6$	$6$
$10 - 2$	$7$	$5 + 4$	$0$
$7 + 3$	$2$	$9 - 3$	$10$

七、在( )里填上合适的数。

$4 + ( ) = 7$        $9 = 4 + ( )$        $3 + 5 = 4 + ( )$

## 五年制小学一年级上单元分级测试卷二

## AA级

## 一、口算。

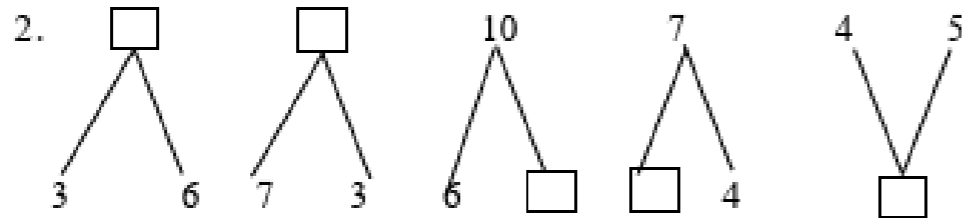
$3+2=$	$7-4=$	$10-8=$	$6-5=$	$9-5=$
$5+5=$	$4+0=$	$3+6=$	$8-4=$	$10+0=$
$9+1=$	$2+5=$	$7+3=$	$5-3=$	$2+7=$
$10-4=$	$1+8=$	$2+2=$	$3+5=$	$10-10=$
$9-7=$	$8-6=$	$9-9=$	$7-1=$	$0+5=$
$4-2=$	$6+3=$	$5+4=$	$8-3=$	$4+3=$
$9-4=$	$2+8=$	$7-7=$	$8-2=$	$3+3=$
$10-1=$	$1+9=$	$7-3=$	$2+6=$	$10-5=$

## 二、填空。

1. 

	3		5			8	
--	---	--	---	--	--	---	--

1		5		9
---	--	---	--	---



3. 把 7、4、10、5、1 按从大到小的顺序排一排。

( ) > ( ) > ( ) > ( ) > ( )

4. 数一数，在 ( ) 里填数。



( ) 比 ( ) 多 ( )

( ) 比 ( ) 少 ( )



三、选择一个正确的答案，在下面的 ( ) 里“√”

1. 比 5 小 2 的数是：

7      4      3

( ) ( ) ( )

2. 小明今年 9 岁，去年他几岁？

10 岁      9 岁      8 岁

( )      ( )      ( )

3. 在  $5+2 \bigcirc 4+3$  中， $\bigcirc$  里应该填：

>      =      <

( )      ( )      ( )

4. 妈给了我 8 颗糖，吃了的和剩下的同样多，我已经吃了：

3 颗      4 颗      5 颗

( )      ( )      ( )

五年制小学数学一年级上单元测试卷二

AA级

一、根据加法算式写出另一道加法算式和两道减法算式。

$2+3=5$

$4+5=9$

$\square + \square = \square$

$\square + \square = \square$

$\square - \square = \square$

$\square + \square = \square$

$\square - \square = \square$

$\square + \square = \square$

二、哪一行的数与其他两行不同，就在（ ）里打“X”。

$\boxed{1\ 2\ 3}$  ( )

$\boxed{2\ 4\ 6}$  ( )

$\boxed{4\ 4\ 4}$  ( )

$\boxed{3\ 6\ 9}$  ( )

$\boxed{6\ 6\ 6}$  ( )

$\boxed{6\ 8\ 10}$  ( )

三、在○里填上“+”或“-”。

$4 \bigcirc 3 = 1$      $6 \bigcirc 2 = 8$      $9 \bigcirc 4 = 5$      $7 = 4 \bigcirc 3$

$4 \bigcirc 3 = 1$      $7 \bigcirc 3 = 10$      $8 \bigcirc 2 = 6$      $10 = 5 \bigcirc 5$

$5 \bigcirc 5 = 0$      $7 \bigcirc 4 = 3$      $3 \bigcirc 6 = 9$      $6 = 10 \bigcirc 4$

四、从（ ）里选出合适的数，填在□里。

$6 < \square < 8$  (5、6、7)     $10 > \square > 8$  (10、8、9)

$9 > \square > 7$  (7、8、9)     $2 < \square < 4$  (5、4、3)

五、照样子，根据数的组成填空。

10	9	3			2	4
	1		5	7		

9	2		4		
		6		8	

六、在（ ）里填上合适的数。

$6$  比  $8$  少 ( )     $7$  比  $3$  多 ( )     $9$  比 ( ) 多  $1$

$8$  比  $6$  多 ( )     $9$  比  $6$  多 ( )     $6$  比 ( ) 多  $2$

( ) 比  $4$  少  $1$     ( ) 和  $4$  同样多    ( ) 比  $7$  少  $2$

七、在○里填上合适的数，使每条边上的三个数相加得数等于□里的数。

